




CHÀO MỪNG QUÝ THẦY CÔ VỀ DỰ GIỜ THĂM LỚP

Môn Toán lớp 3

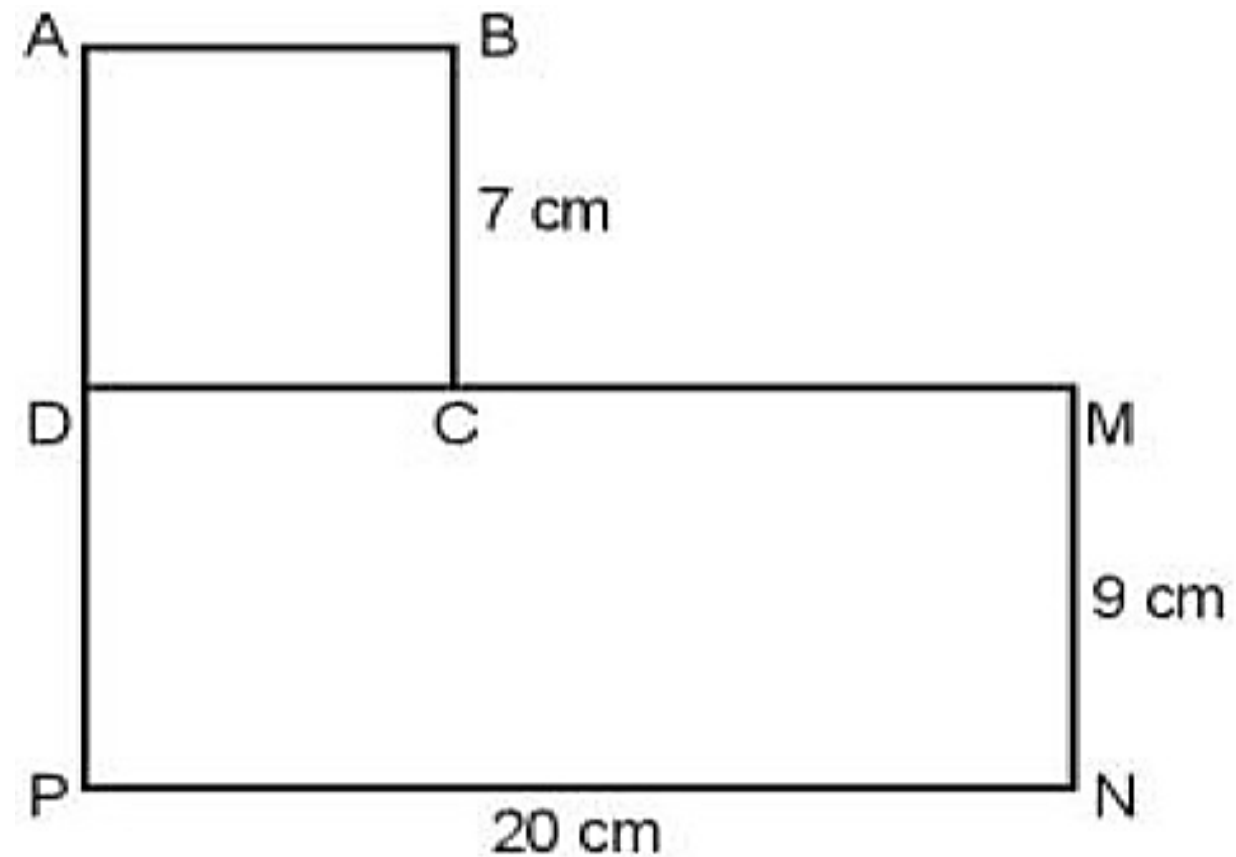
**BÀI 52: DIỆN TÍCH HÌNH CHỮ NHẬT,
DIỆN TÍCH HÌNH VUÔNG (TIẾT 3)**





BÀI 52: DIỆN TÍCH HÌNH CHỮ NHẬT, DIỆN TÍCH HÌNH VUÔNG (TIẾT 3)

- 1** Hình \mathcal{H} gồm hình vuông $ABCD$ và hình chữ nhật $DMNP$ như hình bên.
- a) Tính diện tích hình vuông $ABCD$ và diện tích hình chữ nhật $DMNP$.
- b) Tính diện tích hình \mathcal{H} .




Hình \mathcal{H}



Thứ năm ngày 12 tháng 2 năm 2026

TOÁN



BÀI 52: DIỆN TÍCH HÌNH CHỮ NHẬT, DIỆN TÍCH HÌNH VUÔNG (TIẾT 3)

1 a) Tính diện tích hình vuông ABCD và diện tích hình chữ nhật DMNP

Bài giải

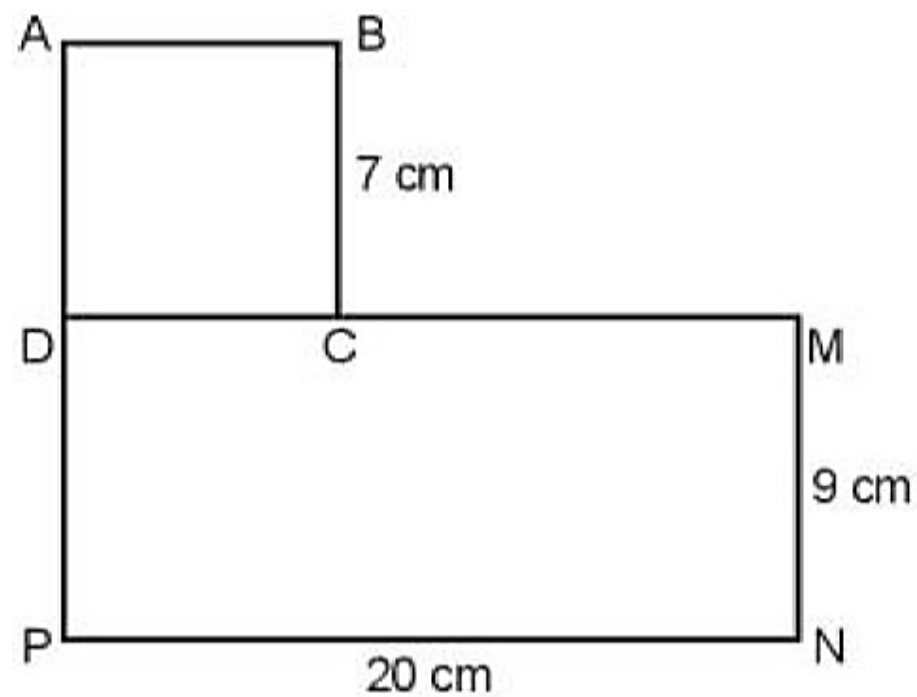
a) Diện tích hình vuông ABCD là:

$$7 \times 7 = 49 \text{ (cm}^2\text{)}$$

Diện tích hình chữ nhật DMNP là:

$$9 \times 20 = 180 \text{ (cm}^2\text{)}$$

Đáp số: 49 cm², 180 cm²



Hình 8


b) Tính diện tích hình H.

Diện tích hình H là:

$$49 + 180 = 229 \text{ (cm}^2\text{)}$$

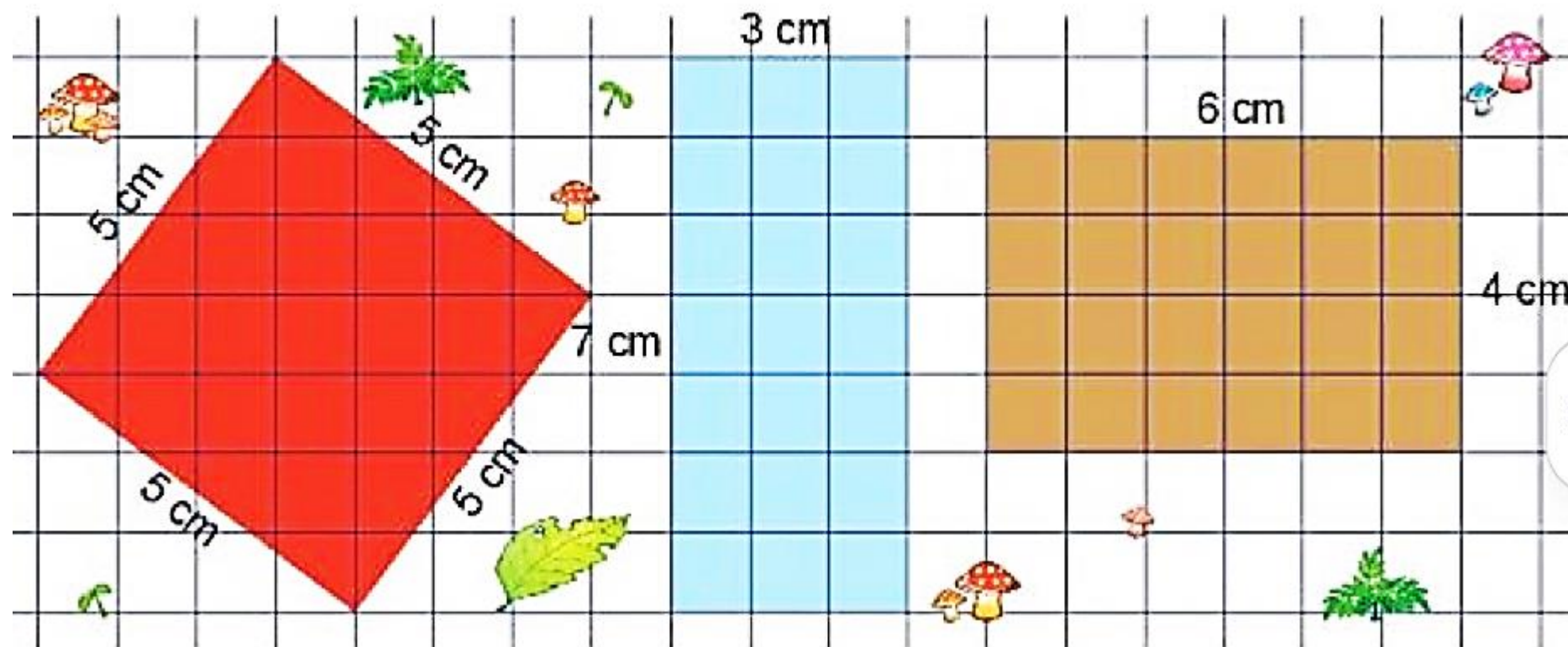
Đáp số: 229 cm²





BÀI 52: DIỆN TÍCH HÌNH CHỮ NHẬT, DIỆN TÍCH HÌNH VUÔNG (TIẾT 3)

- 2** Ba bác kiến rào đất để trồng nấm. Kiến lửa rào mảnh đất màu đỏ. Kiến lửa rào mảnh đất màu đỏ. Kiến gió rào mảnh đất màu xanh. Kiến bọ dọt rào mảnh đất màu nâu.





BÀI 52: DIỆN TÍCH HÌNH CHỮ NHẬT, DIỆN TÍCH HÌNH VUÔNG (TIẾT 3)

2 Ba bác kiến rào đất để trồng nấm. Kiến lửa rào mảnh đất màu đỏ. Kiến gió rào mảnh đất màu xanh. Kiến bọ dọt rào mảnh đất màu nâu.

a) Số?

Mảnh đất	Đỏ	Xanh	Nâu
Chu vi (cm)	20 cm	20 cm	20 cm
Diện tích (cm ²)	25 cm ²	21 cm ²	24 cm ²

b) Mảnh đất nào có diện tích lớn hơn?

Mảnh đất màu đỏ có diện tích lớn hơn



Thứ năm ngày 12 tháng 2 năm 2026

TOÁN

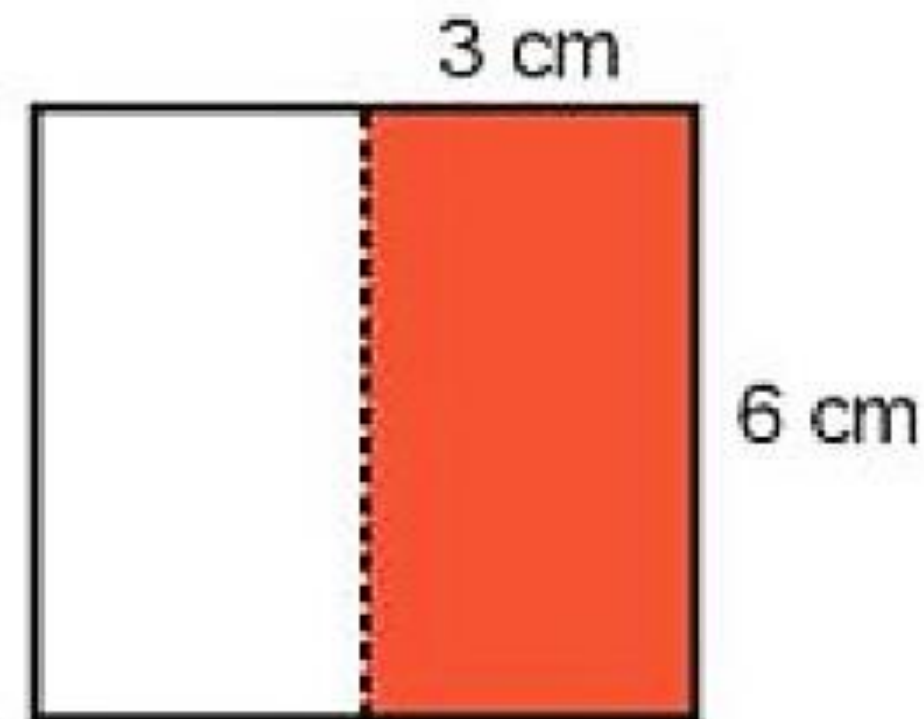


BÀI 52: DIỆN TÍCH HÌNH CHỮ NHẬT, DIỆN TÍCH HÌNH VUÔNG (TIẾT 3)

3 Số?

Diện tích tấm bìa hình vuông gấp đôi diện tích miếng bìa màu đỏ.

Diện tích tấm bìa hình vuông là cm^2



Bài giải

Diện tích tấm bìa màu đỏ là:

$$6 \times 3 = 18(\text{cm}^2)$$

Diện tích tấm bìa hình vuông là:

$$18 \times 2 = 36(\text{cm}^2)$$

Đáp số: 36cm^2

Vậy diện tích tấm bìa hình vuông là 36 cm^2 .





BÀI 52: DIỆN TÍCH HÌNH CHỮ NHẬT, DIỆN TÍCH HÌNH VUÔNG (TIẾT 3)

4 Số?

Có một tấm kính lớn như hình vẽ bên.

Người ta cắt ra 3 tấm kính hình chữ nhật để lắp vào cửa chớp, mỗi tấm có chiều dài 80cm, chiều rộng 10cm.

Vậy phần kính còn lại có diện tích là cm^2



Thứ năm ngày 12 tháng 2 năm 2026

TOÁN



BÀI 52: DIỆN TÍCH HÌNH CHỮ NHẬT, DIỆN TÍCH HÌNH VUÔNG (TIẾT 3)

4 Số?

Bài giải

Diện tích của tấm kính lớn là:

$$85 \times 30 = 2550 \text{ (cm}^2\text{)}$$

Diện tích mỗi tấm kính cắt đi là:

$$80 \times 10 = 800 \text{ (cm}^2\text{)}$$

Diện tích 3 tấm kính cắt đi là:

$$800 \times 3 = 2400 \text{ (cm}^2\text{)}$$

Diện tích phần tấm kính còn lại là:

$$2550 - 2400 = 150 \text{ (cm}^2\text{)}$$

Đáp số: 150 cm²



Vậy phần kính còn lại có diện tích là 150 cm²

